


かず
数さがしクイズ①




タテ、ヨコ、ナナメのとなりあう数字を2つ使って、
たし算して10になる組み合わせは何個あるかな？

6	7	1	0	3	2
0	5	10	2	9	6
3	7	2	6	2	7
1	7	8	3	5	0
2	3	1	8	3	2
5	4	6	3	9	10

く あ
組み合わせは

11





タテ、ヨコ、ナナメのとなりあう数字を2つ使って、
かけ算して12になる組み合わせは何個あるかな？

1	12	4	5	1	6
3	2	4	7	9	1
11	2	3	3	3	12
3	6	4	9	8	2
10	5	1	7	6	2
11	1	9	2	3	4

く あ
組み合わせは

11





こた
答え


6	7	1	0	3	2
0	5	10	2	9	6
3	7	2	6	2	7
1	7	8	3	5	0
2	3	1	8	3	2
5	4	6	3	9	10

○のかず

6

11





こた
答え

1	12	4	5	1	6
3	2	4	7	9	1
11	2	3	3	3	12
3	6	4	9	8	2
10	5	1	7	6	2
11	1	9	2	3	4

○のかず

11

11

