

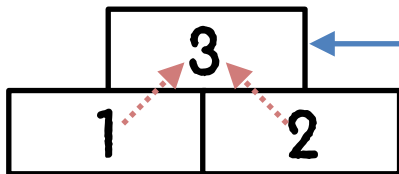
# たし算ピラミッド



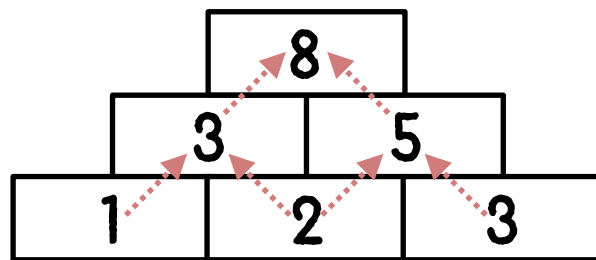
「たし算ピラミッド」では、となりどうしのブロックに書かれている数字をたし算したこたえを上ブロックに書いて積み上げていきます。

れい  
例：

上のブロックには、下にある1と2のたし算のこたえが入ります

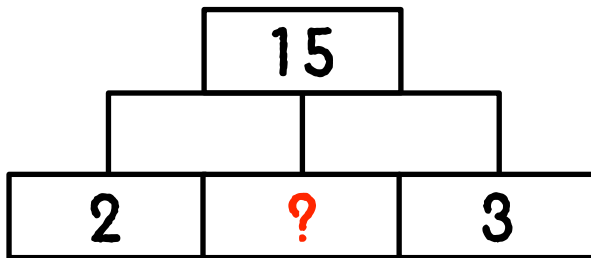


$1 + 2 = 3$   
で3が入るね！






たし算<sup>ざん</sup>ピラミッドのルールにならって、ピラミッドのブロック  
に数字<sup>すうじ</sup>を入れていきます。?<sup>はい</sup>に入る数字<sup>すうじ</sup>をこたえてください。



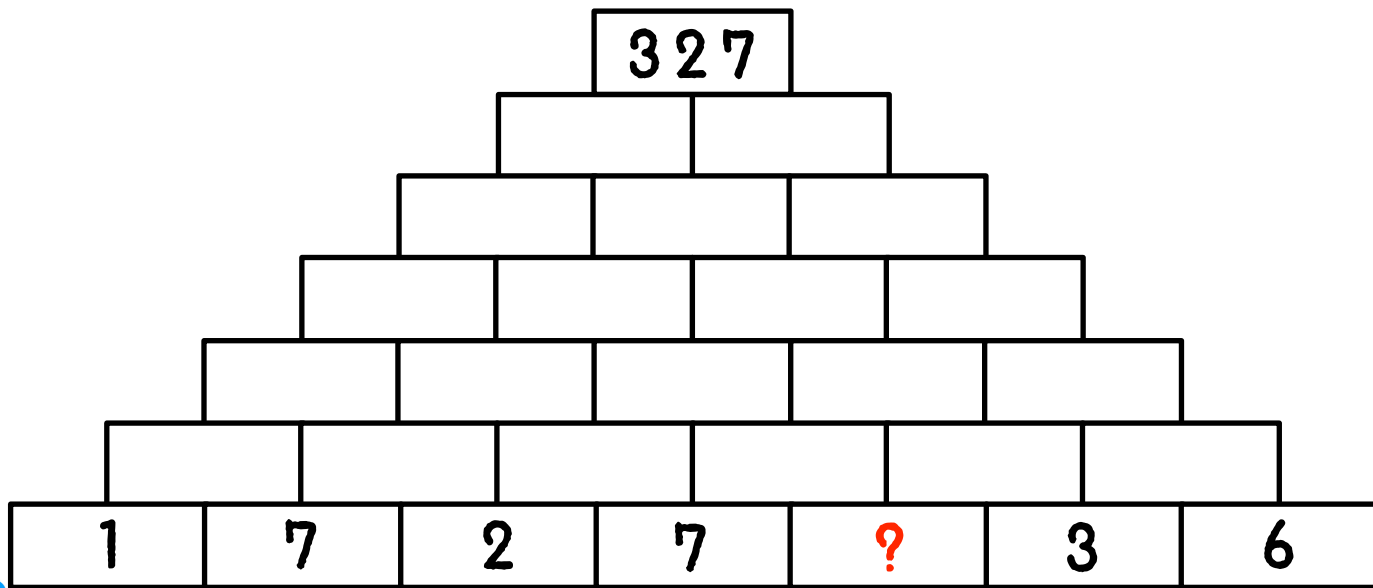


たし算ピラミッドのルールにならって、ピラミッドのブロック  
に数字を入れていきます。?に入る数字をこたえてください。





たし算<sup>さん</sup>ピラミッドのルールにならって、ピラミッドのブロック  
に数字<sup>すうじ</sup>を入れていきます。?<sup>はい</sup>に入る数字<sup>すうじ</sup>をこたえてください。





【かんがえかた】

つか けいさん だんめ  
 ? を使って計算していくと、2段目は  $2 + ?$  と  $? + 3$  となりま

す。この2つを足した数が15なので、 $(2 + ?) + (? + 3) = 15$ と

あらわ  
 表すことができ、こたえは  $? = 5$  となります。

