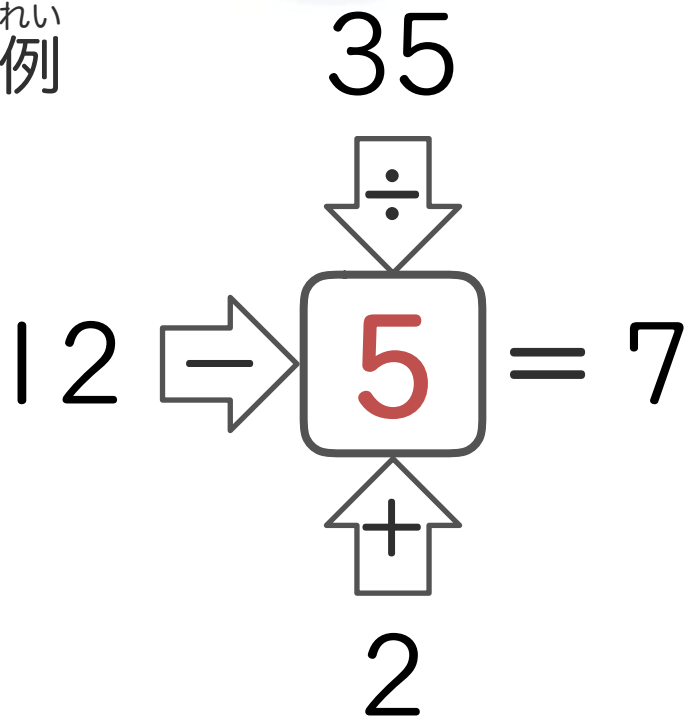


Q. 下の図の□に入る数字を書き込みましょう！

ルール：矢印の方向に向かって計算し、右側にある数字が答えになるような数字を□に入れます。

れい  
例



うえ  
上 → □ では  $35 \div \square = 7$

ひだり  
左 → □ では  $12 - \square = 7$

した  
下 → □ では  $2 + \square = 7$

なので、□に入る数字は5となります。

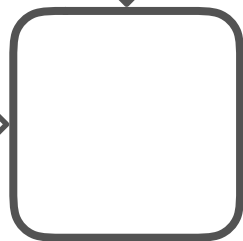

Q. した ず はい すうじ か こ  
下の図の□に入る数字を書き込みましょう！

①


16



10




= 8



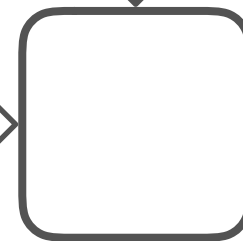

6

②


40



13



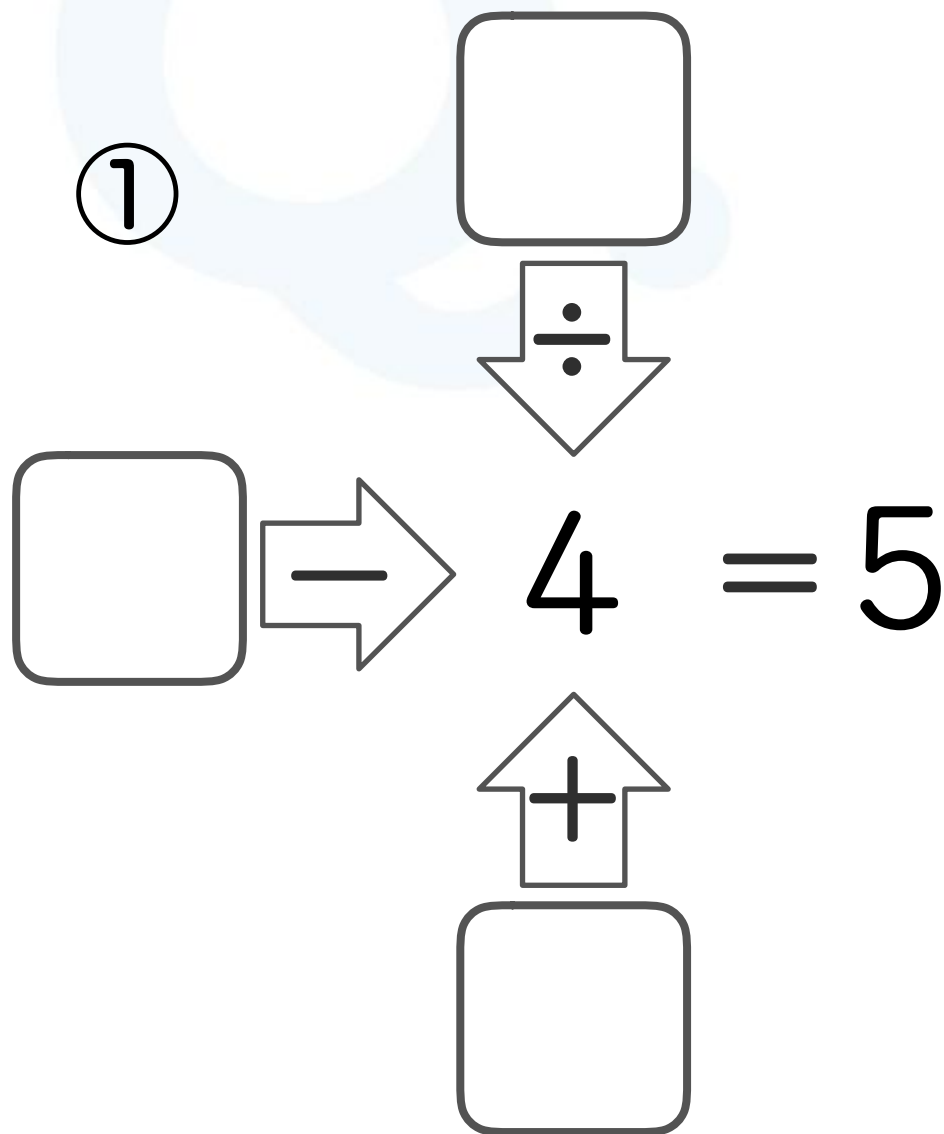
= 8



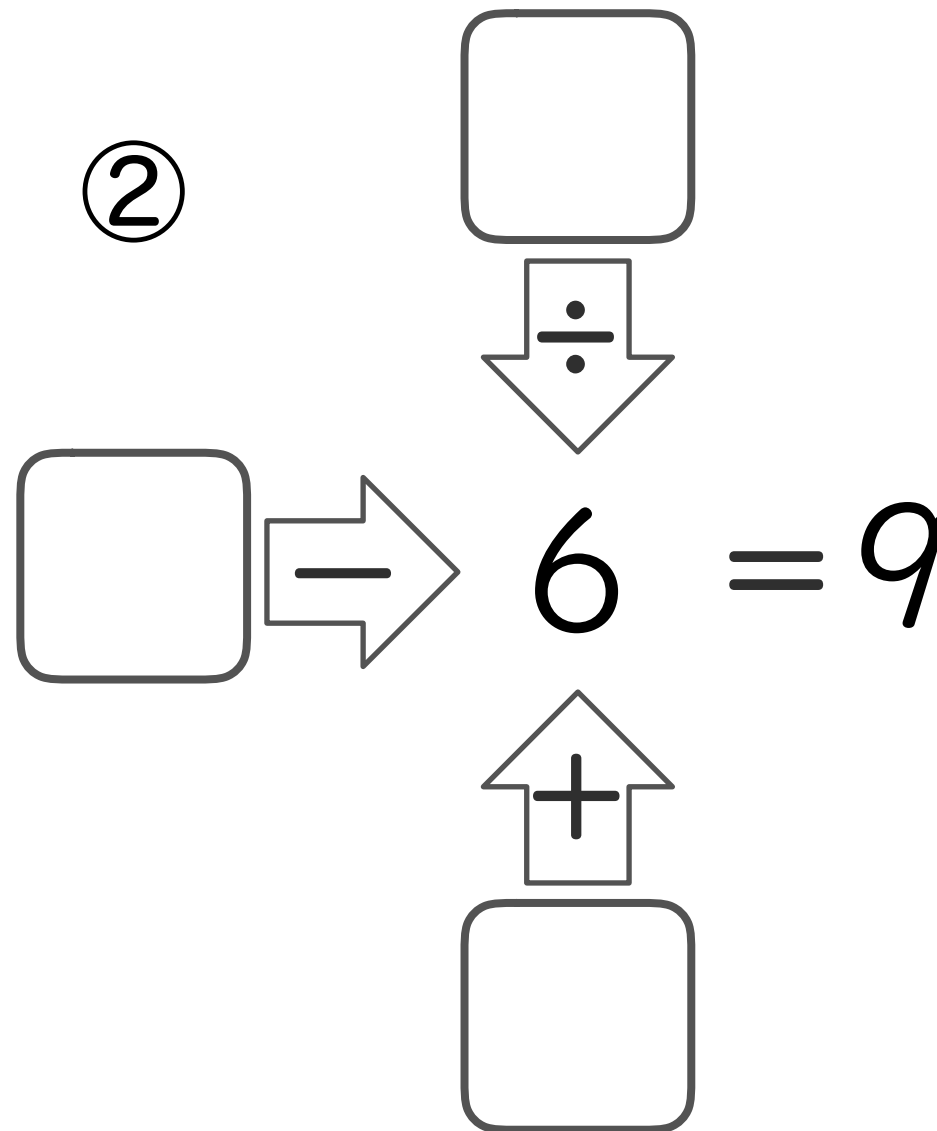
3

し た ず                      は い      す う   じ      か      こ  
Q. 下の図の□に入る数字を書き込みましょう！

①



②



①

$$16 \div 2 = 8$$

$$10 + 6 = 16$$

10 ⇒ 2 = 8

②

$$40 \div 5 = 8$$

$$13 + 3 = 16$$

13 ⇒ 5 = 8

①

$$\begin{array}{c}
 \boxed{20} \\
 \downarrow \div \\
 \boxed{9} \rightarrow 4 = 5 \\
 \uparrow + \\
 \boxed{1}
 \end{array}$$

②

$$\begin{array}{c}
 \boxed{54} \\
 \downarrow \div \\
 \boxed{15} \rightarrow 6 = 9 \\
 \uparrow + \\
 \boxed{3}
 \end{array}$$