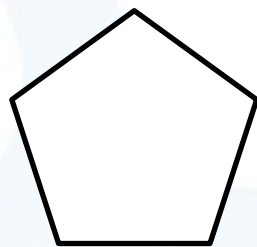
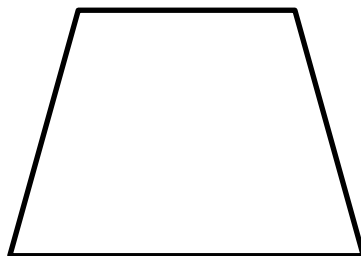



ずけい
図形を「ある」「なし」の2つのグループに分けました。

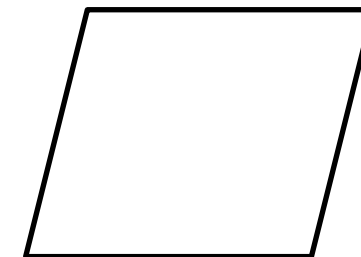
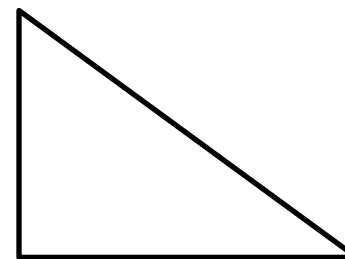
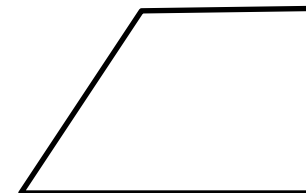


はどちらのグループでしょうか？

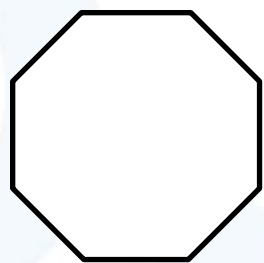
ある



なし

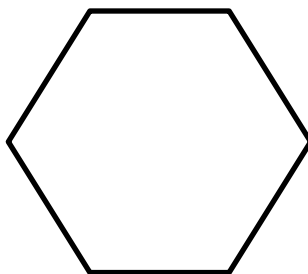

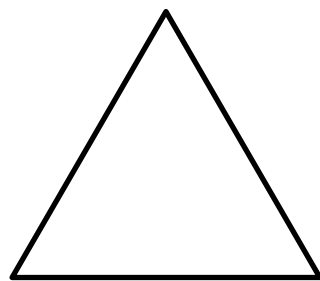


ずけい
図形を「A」「B」の2つのグループに分けました。

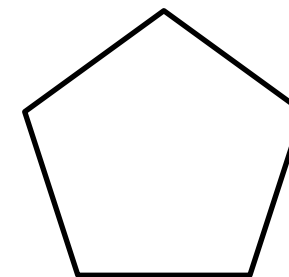
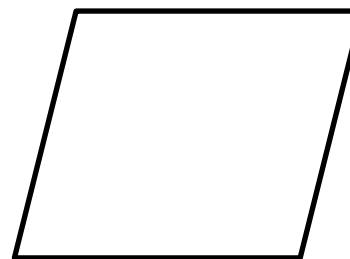



はどちらのグループでしょうか？

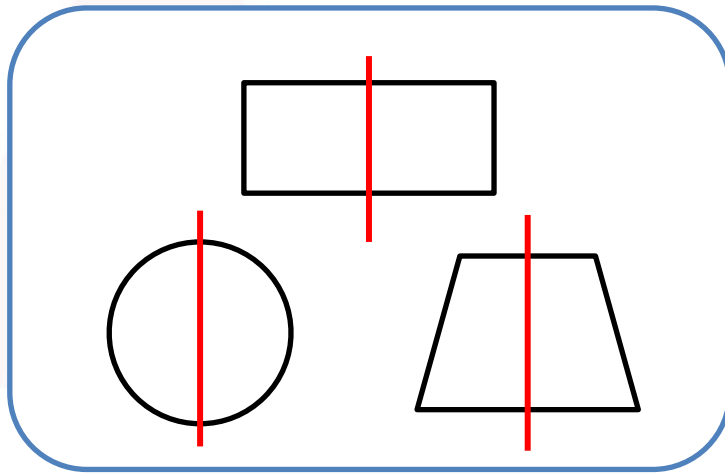
A



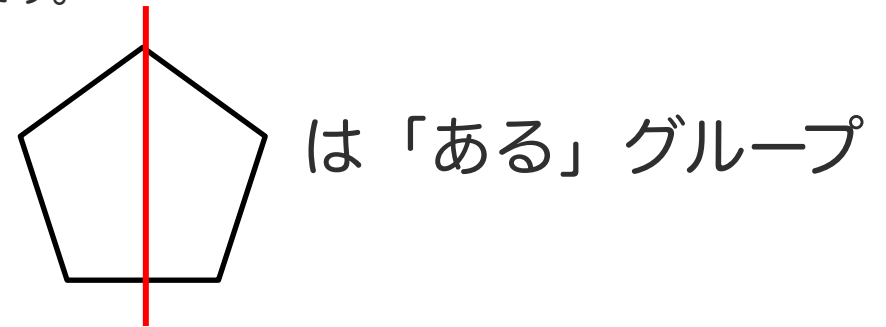
B



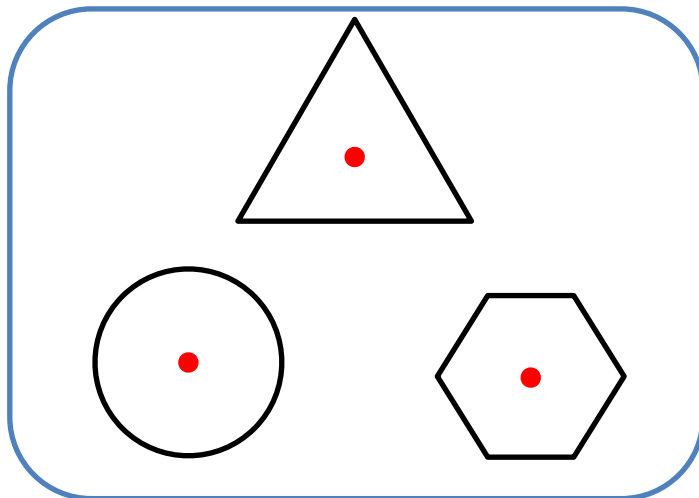
A.① ^{ずけい}図形が^{せんたいしょう}線対称になる^{じく}軸が「ある」グループと「なし」グループです。



^{あか}赤い線は^{せん}対称の^{たいしょう}軸^{じく}です。



A.② ^ど120度^{かいてん}回転させると^{もと}元の^{かたち}形に^{かさ}重なるのが「A」グループ、
^{かさ}重ならないのが「B」グループです。



^{あか}赤い点^{てん}は^{かいてん}回転の^{ちゅうしん}中心^{しん}です。

